



Всероссийская олимпиада школьников по ГЕОГРАФИИ
Школьный этап 2021-2022 учебный год
Бланк заданий – 5 класс

Часть I.

Разминка

В каждом пункте выберите правильный ответ, запишите букву, которой он обозначен в бланк ответов:

1. Что в переводе означает слово «география»?

А) Наука об атмосфере Б) Наука о пещерах В) Здравоохранение Г) Землеописание

2. Первое кругосветное плавание совершил:

А) Христофор Колумб Б) Джеймс Кук В) Фернан Магеллан Г) Васко да Гама

3. Укажи предмет, не относящийся к природе:

А) береза Б) ковёр В) клевер Г) океан

4. Какие действия не могут выполнять растения, в отличие от животных?

А) активно двигаться Б) дышать В) размножаться Г) расти

5. Какой из предметов сделан из того, что когда-то было частью живой природы?

А) глиняная кружка Б) стальной нож В) льняное платье Г) кирпичный дом

6. Почему на Земле бывают зима и лето?

А) Земля вращается вокруг своей оси В) зимой Солнце греет слабо

Б) Земля вращается вокруг Солнца Г) летом Солнце не заходит за горизонт

7. На какой карте можно проследить расположение природных зон России?

А) на политической карте мира В) на физической карте России

Б) на карте полушарий Г) на карте природных зон России

8. Какая из этих природных зон самая северная?

А) тундра Б) тайга В) арктическая пустыня Г) степь

9. Какое растение можно встретить в арктической пустыне?

А) полярный мак Б) ромашку В) лютик Г) верблюжью колючку

10. Живые организмы леса составляют природные...

А) заповедники Б) сообщества В) парки Г) пейзажи

11. По какой причине в зоне степей не растут деревья?

А) бедные почвы Б) сильные ветры В) недостаток тепла Г) недостаток влаги

12. Каких домашних животных разводят в полупустынях?

А) овец Б) коров В) лошадей Г) оленей



Часть II.


Задание №1. Выпишите буквы, которыми обозначены ПРАВИЛЬНЫЕ утверждения:

- А) Смена времен года происходит потому, что Земля вращается вокруг своей оси.
- Б) Иртыш – приток Амура.
- В) Природа может обойтись без человека, а человек без природы – нет.
- Г) Россия расположена на материке Евразия.
- Д) В лесу произрастают древесные и травянистые растения.
- Е) Мхи и лишайники зацветают в середине лета.
- Ж) Изделия из гранита называют керамикой.
- З) Из железной руды выплавляют чугун, а из чугуна – сталь.
- И) Байкал – самое глубокое озеро в мире.
- К) Самый высокий действующий вулкан России – Ключевская Сопка.

Задание №2. Запишите названия объектов культурного наследия ЮНЕСКО и страны, где они расположены, в бланк ответов.

Выберите объект (объекты), расположенные на одном материке. Запишите их номер (номера).

Выберите объект (объекты), расположенные в южном полушарии. Запишите номер или номера в бланк ответов.



Задание №3. Выпишите растения и животных материка, на котором мы живём (в таблицу в бланке ответов впишите только их порядковые номера и название материка):

- 1) ехидна, 2) панда, 3) жираф, 4) скунс, 5) анаконда, 6) зебра, 7) коала, 8) ягуар, 9) соболь, 10) пума, 11) баобаб, 12) эвкалипт, 13) секвойя, 14) виктория-регия 15) женьшень.

Внимательно проверьте свои ответы, записанные в «Бланке ответов»!

Всероссийская олимпиада школьников по географии 2021-2022 уч. год
Школьный этап. 5 класс. БЛАНК ОТВЕТОВ. КОД _____

Часть I.

1	2	3	4	5	6	7	8	9	10	11	12

Часть II.

Задание №1. Верные суждения обозначены буквами: _____

Задание №2. Название объекта / название страны

№ фото	Объект Всемирного культурного наследия ЮНЕСКО	Страна	На одном материке (значком V)	В южном полушарии (значком V)
1				
2				
3				
4				

Задание №3.

Растения и животные (только №№)	
Материк	

Линия отреза

Всероссийская олимпиада школьников по географии 2021-2022 уч. год
Школьный этап. 5 класс. БЛАНК ОТВЕТОВ. КОД _____

Часть I.

1	2	3	4	5	6	7	8	9	10	11	12

Часть II.

Задание №1. Верные суждения обозначены буквами: _____

Задание №2. Название объекта / название страны

№ фото	Объект Всемирного культурного наследия ЮНЕСКО	Страна	На одном материке (значком V)	В южном полушарии (значком V)
1				
2				
3				
4				

Задание №3

Растения и животные (только №№)	
Материк	



Всероссийская олимпиада школьников по ГЕОГРАФИИ


Школьный этап 2021-2022 учебный год

Бланк заданий – 6 класс


Задание №1. Запишите в бланк ответов названия объектов культурного наследия ЮНЕСКО и страны, в которых они расположены.

Выберите объект (объекты), расположенный(-е) на одном материке. Запишите их номер (номера) в бланк ответов.

Выберите объект (объекты), расположенный(-е) к югу от экватора. Запишите номер (номера) в бланк ответов.



Задание №2. Какие географические объекты изображены на снимках из космоса?



Задание №3. Запишите в бланк ответов, как называются

1. Город федерального значения – субъект федерации, в котором мы живём?
2. Административный район, в котором расположена ваша школа/лицей/гимназия?
3. Муниципальное образование, в котором расположена ваша школа/лицей/гимназия?

Задание №4*. Рассмотрите фрагмент топографической карты, заполните пропуски в описании данной местности: «Местность лесистая. Это 1... лес, главные лесообразующие породы в этом лесу – 2... и 3.... У этого леса есть имя – 4..., через него в направлении 5 с юго-... на ...-... проходит железная дорога. Из-за неровностей местности при строительстве железной дороги пришлось сделать насыпь (высотой 6... метров) и выемку (глубиной 7 ... метров), в 8 северо-... части местности находится железнодорожная станция – 9..., название которой дало имя лесу. В 10 юго-... части леса расположен геодезический знак с отметкой высоты 11... метров над уровнем моря. В направлении на 12 восток-...-восток от геодезического знака отметка высоты 209,0 метров».



Задание №5. Распределите растения и животных по материкам, где они произрастают или обитают. В таблицу в бланке ответов впишите только порядковые номера:

- 1) ехидна, 2) панда, 3) жираф, 4) скунс, 5) анаконда, 6) зебра, 7) коала, 8) ягуар,
- 9) соболь, 10) пума, 11) баобаб, 12) эвкалипт, 13) секвойя, 14) виктория-регия,
- 15) женьшень.

*ЗНАКОМ * отмечено задание повышенной трудности.*

Внимательно проверьте свои записи в «Бланке ответов»!

**Всероссийская олимпиада школьников по географии. Школьный этап.
6 класс. Бланк ответов.**

Код	
------------	--

Задание №1.

№ фото	Объект Всемирного культурного наследия	Страна	На одном материке (знаком V или +)	В южном полушарии (знаком V или +)
1				
2				
3				
4				

Задание №2.

1	2	3
---	---	---

Задание №3.

Город – _____

Район – _____

Муниципальное образование – _____

Задание №4

1.	4.	7.	10.
2.	5.	8.	11.
3.	6.	9.	12.

Задание №6

Африка	Австралия	Южная Америка	Северная Америка	Евразия



Всероссийская олимпиада школьников по ГЕОГРАФИИ


Школьный этап 2021-2022 учебный год

Бланк заданий – 7 класс

Задание №1. Запишите в бланк ответов названия объектов культурного наследия ЮНЕСКО и страны, в которых они расположены.

Выберите объект (объекты), расположенный(-е) на одном материке. Запишите их номер (-а) в бланк ответов.

Выберите объект (объекты), расположенный(-е) к югу от экватора. Запишите их номер (-а) в бланк ответов.




Задание №2. Выберите из перечня самое раннее по времени географическое событие:

- 1) написан труд «География» из 17 книг;
- 2) викинги в своих плаваниях достигли Гренландии;
- 3) представители Хараппской цивилизации открыли муссоны;
- 4) высказана идея о шарообразности Земли;
- 5) путешественник из Флоренции несколько раз побывал в «Индии», только что открытой Колумбом;
- 6) русский купец побывал в Персии и Индии.

Задание №3*. Рассмотрите фрагмент топографической карты, заполните пропуски в описании данной местности: «Местность лесистая. Это 1... лес, главные лесообразующие породы в этом лесу – 2... и 3.... У этого леса есть имя – 4..., через него в направлении 5 с юго-... на ...-... проходит железная дорога. Из-за неровностей местности при строительстве железной дороги пришлось сделать насыпь (высотой 6... метров) и выемку (глубиной 7 ... метров), в 8 северо-... части местности находится железнодорожная станция – 9..., название которой дало имя лесу. В 10 юго-... части леса расположен геодезический знак с отметкой высоты 11... метров над уровнем моря. В направлении на 12 восток-...-восток от геодезического знака отметка высоты 209,0 метров».



Задание №4. Какие географические объекты изображены на снимках из космоса?



Задание №5. Распределите растения и животных по материкам, где они водятся или произрастают: 1) ехидна, 2) панда, 3) жираф, 4) скунс, 5) анаконда, 6) зебра, 7) коала, 8) ягуар, 9) соболь, 10) пума, 11) баобаб, 12) эвкалипт, 13) секвойя, 14) виктория-регия, 15) женьшень. Ответы запишите в бланк ответов (в таблицу пишите только цифры через запятую).

Африка	Австралия	Южная Америка	Северная Америка	Евразия
--------	-----------	---------------	------------------	---------

**Всероссийская олимпиада школьников по географии. Школьный этап. 7 класс.
Бланк ответов.**

Код	
------------	--

Задание №1

№ п/п	№1	№2	№3	№4
Объект				
Страна				

На одном материке – № _____ К югу от экватора – № _____

Задание №2 Самое раннее событие обозначено №____

Задание №3

1		4		7		10	
2		5		8		11	
3		6		9		12	

Задание №4

1	2	3

Задание №5

Африка	Австралия	Южная Америка	Северная Америка	Евразия



Всероссийская олимпиада школьников по ГЕОГРАФИИ

Школьный этап 2021-2022 учебный год

Бланк заданий – 8 класс. Знаком * отмечено задание повышенной трудности

Задание №1. Выберите один правильный ответ:

1. Метеорологический прибор для регистрации продолжительности солнечного сияния:
А) гигрограф Б) барограф В) анемометр Г) гелиограф
2. Эта область «исчезла» с политико-административных карт РФ после 2008 года:
А) Тюменская Б) Читинская В) Свердловская Г) Иркутская
3. Для какой науки объектом изучения являются пещеры:
А) литология Б) гляциология В) спелеология Г) геоморфология?
4. Установите соответствие «порт – море» для города-порта Диксон:
А) Карское Б) Чукотское В) Баренцево Г) Лаптевых

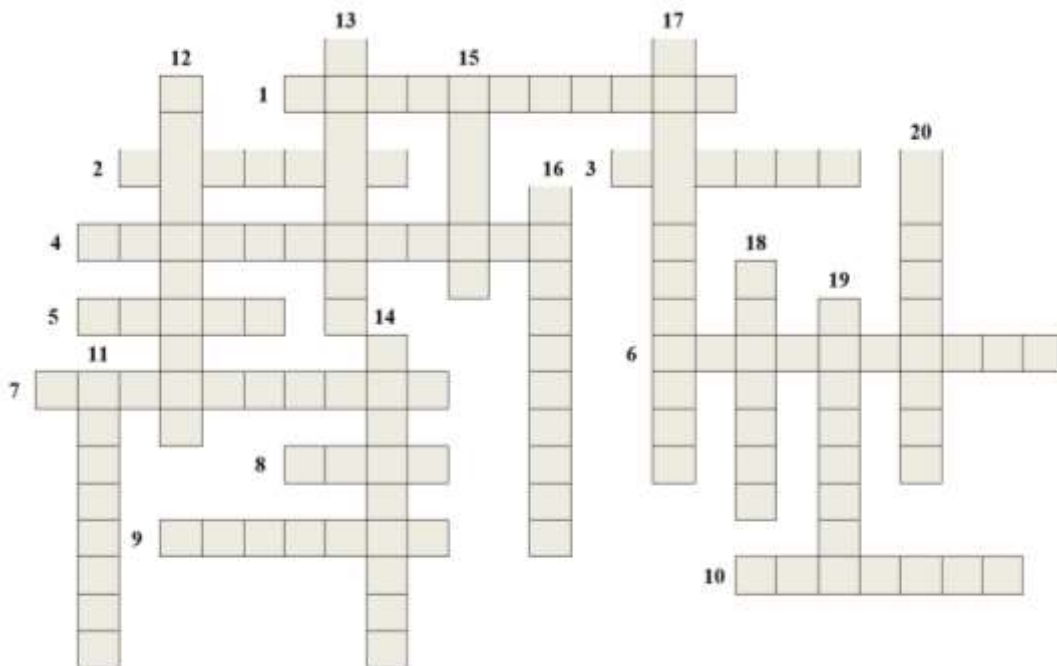
Задание №2. В 2021 году Комплексу защитных сооружений Петербурга от наводнений (дамбе) исполнилось 10 лет. За это время дамба защитила город от 26 наводнений. Подумайте и выберите из перечня города мира, которые в отличие от нашего города не нуждаются в защитных сооружениях от наводнений:

- 1) Осло 2) Венеция 3) Сидней 4) Нью-Йорк

Задание №3. Рассмотрите фрагмент топографической карты, заполните пропуски в описании данной местности: «Местность лесистая. Это 1... лес, главные лесообразующие породы в этом лесу – 2... и 3.... У этого леса есть имя – 4..., через него в направлении 5 с юго-... на ...-... проходит железная дорога. Из-за неровностей местности при строительстве железной дороги пришлось сделать насыпь (высотой 6... метров) и выемку (глубиной 7 ... метров), в 8 северо-... части местности находится железнодорожная станция – 9..., название которой дало имя лесу. В 10 юго-... части леса расположен геодезический знак с отметкой высоты 11... метров над уровнем моря. В направлении на 12 восток-...-восток от геодезического знака отметка высоты 209,0 метров».



Задание №4*. Реши кроссворд. Все клеточки – квадратные. 1 клетка=1 буква



По горизонтали:

1. Холодное течение в Атлантическом океане у юго-западных берегов Африки;
2. Самое крупное из Великих Северо-Американских озёр;
3. Вулкан Мауна-Кеа расположен на острове ...;
4. Самая высокая точка одного из материков, вулкан;
5. Акваторию вокруг берегов Антарктиды некоторые учёные считают ... океаном;
6. Море без берегов;
7. Западное побережье этого полуострова омывает Тихий океан;
8. В центре самого большого материка расположена пустыня ...;
9. Река, приток самой полноводной реки мира;
10. Ф.Ф. Беллинсгаузен в 1820 г. нанёс на карту этот архипелаг в Тихом океане как «Острова Россиян»;

По вертикали:

11. Залив Аравийского моря, между Африкой и Аравийским п-овом;
12. Второй по площади после Антарктиды ледовый панцирь есть на острове ...;
13. Роберт Пири покорил ... полюс;
14. Потухший вулкан в Андах, в районе экватора;
15. Река, сыгравшая важную роль в развитии цивилизации Междуречья;
16. Горная система протянулась вдоль побережья океана через два материка в одной части света;
17. Пролив, отделяет крупный остров в западной части Индийского океана;
18. Самые глубокая впадина суши и высокая вершина мира находятся в ...;
19. Столица государства-материка в Южном полушарии;
20. Нагорье в северо-восточной части Африки, центр происхождения твёрдой пшеницы и кофе.

Всероссийская олимпиада школьников по ГЕОГРАФИИ.

Школьный этап 2021-2022 учебный год. 8 класс.

Бланк ответов. КОД _____

Задание №1.

1	2	3	4

Задание №2.

Город (-а) только №	
Страна (-ы)	

Задание №3.

1.	4.	7.	10.
2. и 3.	5.	8.	11.
	6.	9.	12.

Задание №4*.

	По горизонтали		По вертикали
1		11	
2		12	
3		13	
4		14	
5		15	
6		16	
7		17	
8		18	
9		19	
10		20	



Информационно-методический центр
Красносельского района Санкт-Петербурга



Всероссийская олимпиада школьников по ГЕОГРАФИИ

Школьный этап 2021-2022 учебный год

Бланк заданий – 9 класс

Задание №1. Составьте из ниже перечисленных терминов пары, определите признак для составления пары и запишите результат: 1) изобаты, 2) циклон, 3) барометр, 4) половодье, 5) ордовик, 6) платформа, 7) борá, 8) флюгер, 9) неоген, 10) изогипсы, 11) рифтовая долина, 12) антициклон, 13) баргузин, 14) межень

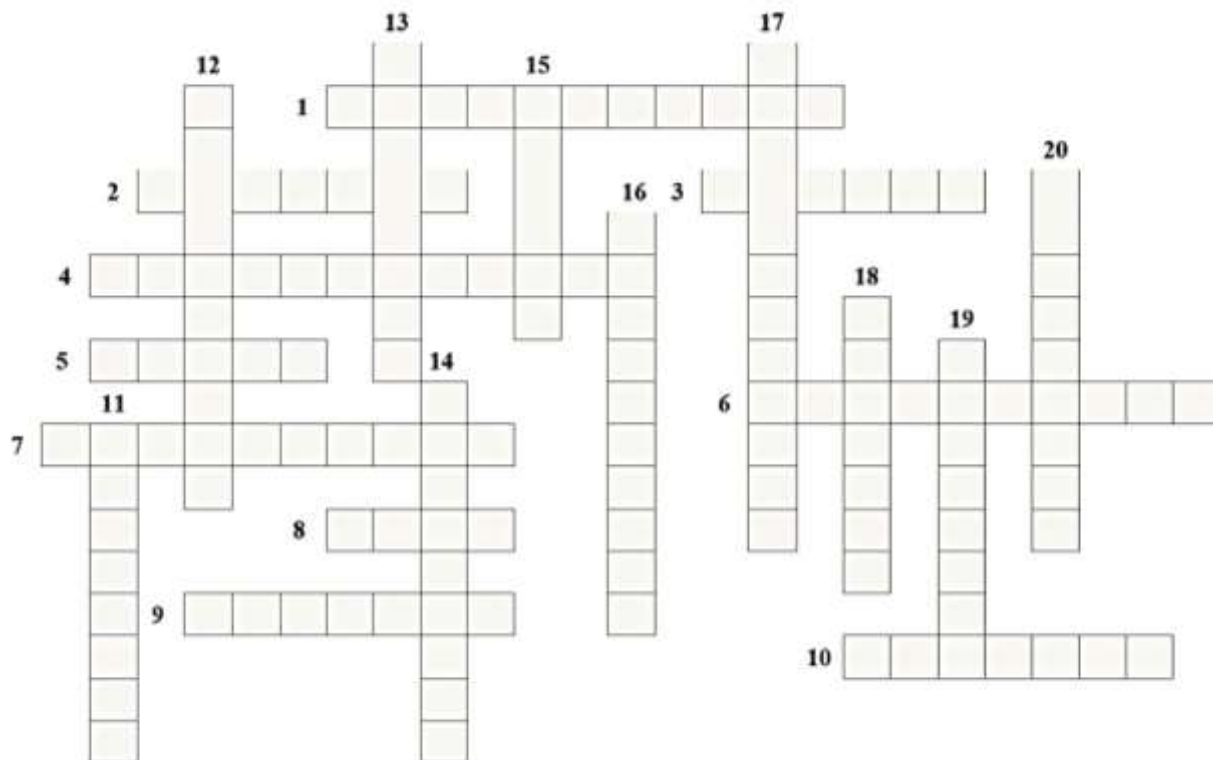
Задание №2 В 2021 году Комплексу защитных сооружений Петербурга от наводнений (дамбе) исполнилось 10 лет. За это время дамба защитила город от 26 наводнений. Подумайте и выберите из перечня города, которые так же, как наш город нуждаются в защитных сооружениях от наводнений: 1) Осло 2) Лондон 3) Сидней 4) Нью-Йорк

Задание №3. Во время Игр летней олимпиады в Токио-2020 прямые телевизионные трансляции соревнований шли в ночное время для бóльшей части территории России. Расписание соревнований специально подстраивали под интересы телезрителей в западном полушарии, потому что именно такое время для них удобнее, а крупные телевещатели Северной Америки – спонсоры Международного олимпийского комитета. Например, финалы по плаванию, которые обычно проводят в вечернее время, в Токио (IX часовой пояс) перенесли на 10:00. Определите, в какое время смотрели финальные заплывы спортсменов 1) на тихоокеанском побережье (XVI часовой пояс) США; 2) на атлантическом побережье (XIX часовой пояс) США; 3) в Москве и Петербурге (II часовой пояс)? Начало финалов по плаванию в 10:00.

Задание №4*. Решите кроссворд. *(все клетки кроссворда квадратной формы, 1 клетка = 1 буква)*

По горизонтали:

1. Холодное течение в Атлантическом океане у юго-западных берегов Африки
2. Самое крупное из Великих Северо-Американских озёр
3. Вулкан Мауна-Кеа расположен на острове ...
4. Самая высокая точка одного из материков, вулкан
5. Акваторию вокруг берегов Антарктиды некоторые учёные считают ... океаном
6. Море без берегов
7. Западное побережье этого полуострова омывает Тихий океан
8. В центре самого большого материка расположена пустыня ...
9. Река, приток самой полноводной реки мира
10. Ф.Ф. Беллинсгаузен в 1820 г. нанёс на карту этот архипелаг в Тихом океане как «Острова Россиян»



По вертикали:

11. Залив Аравийского моря, между Африкой и Аравийским п-овом
12. Второй по площади после Антарктиды ледовый панцирь есть на острове ...
13. Роберт Пири покорил ... полюс
14. Потухший вулкан в Андах, в районе экватора
15. Река, сыгравшая важную роль в развитии цивилизации Междуречья
16. Горная система протянулась вдоль побережья океана на двух материках в одной части света
17. Пролив в районе Южного тропика, отделяет самый крупный остров в Индийском океане
18. Самая глубокая впадина на суше, самая высокая вершина мира находятся на материке ...
19. Столица государства-материка в Южном полушарии, не самый крупный город страны
20. Нагорье в северо-восточной части Африки, центр происхождения твёрдой пшеницы и кофе

Всероссийская олимпиада школьников по ГЕОГРАФИИ.

Школьный этап 2021-2022 учебный год. 9 класс.

Бланк ответов. КОД _____

Задание №1.

Пары (только цифры)	Пояснение признака для составления пары
1 –	
2 –	
3 –	
4 –	
5 –	
6 –	
7 –	

Задание №2. Город (-а) _____ (только номера)

Задание №3.

	Тихоокеанское побережье США, XVI часовой пояс	Атлантическое побережье США, XIX часовой пояс	Москва и Санкт-Петербург, II часовой пояс
Разница во времени с Токио IX часовой пояс			
Во сколько смотрели ТВ-трансляции (начало в 10:00)			

Задание №4*.

	По горизонтали		По вертикали
1		11	
2		12	
3		13	
4		14	
5		15	
6		16	
7		17	
8		18	
9		19	
10		20	



Всероссийская олимпиада школьников по ГЕОГРАФИИ
Школьный этап 2021-2022 учебный год
Бланк заданий – 10 класс

Задание №1. Выберите один правильный ответ:

1. «Новое индустриальное государство» из перечисленных:
А) Южная Корея Б) Бангладеш В) Япония Г) Швейцария
2. Метеорологический прибор для регистрации продолжительности солнечного сияния:
А) анемометр Б) барограф В) гелиограф Г) гигрограф
3. Эта область «исчезла» с политико-административных карт РФ после 2008 года:
А) Тюменская Б) Читинская В) Свердловская Г) Иркутская
4. Объектом изучения этой науки являются ледники:
А) литология Б) гляциология В) спелеология Г) геоморфология
5. Установите соответствие «порт – море» для города Тикси:
А) Балтийское Б) Японское В) Баренцево Г) Лаптевых

Задание №2. В фильме-экранизации «Мэри Поппинс, до свидания!» поётся: «Это было прошлым летом, в середине января, в тридесятom королевстве, там, где нет в помине короля». Какое государство в мире соответствует этим условиям, если известно, что его столица – не является портом?

Задание №3. Составьте из перечисленных слов пары, определите принципа составления пары и запишите результат: 1) изобаты, 2) озы, 3) барометр, 4) половодье, 5) ордовик, 6) платформа, 7) борá, 8) флюгер, 9) неоген, 10) изогипсы, 11) рифтовая долина, 12) друмлины, 13) баргузин, 14) межень. Запишите в бланк ответов.

Задание №4. Определите принцип составления таблицы. Заполните пропуски по образцу: Дунай – Чёрное море, Нигер – Гвинейский залив. Запишите в бланк ответов.

1	Колорадо		6		о. Балхаш
2	Дарлинг		7		о. Виктория
3		Миссисипи	8	Десна	
4	Мараньон		9	Ангара	
5	Шари		10	Витим	

Задание №5. В 2021 году Комплексу защитных сооружений Петербурга от наводнений (дамбе) исполнилось 10 лет. За это время дамба защитила город от 26 наводнений. Выберите из перечня города, в которых тоже построены или проектируются защитные сооружения от затопления районов городов водой:

- 1) Осло 2) Венеция 3) Сидней 4) Нью-Йорк

В каких странах расположены выбранные вами города?

**Всероссийская олимпиада школьников по географии. Школьный этап.
10 класс. Бланк ответов.**

Код	
------------	--

Задание №1.

1	2	3	4	5

Задание №2. Ответы и пояснения:

Государство	
«Королевство без короля»	
«Лето в середине января»	
Столица	

Задание №3.

Пары (только цифры)	Пояснение признака для составления пары
1 –	
2 –	
3 –	
4 –	
5 –	
6 –	
7 –	

Задание №4.

1	Колорадо		6		о. Балхаш
2	Дарлинг		7		о. Виктория
3		Миссисипи	8	Десна	
4	Мараньон		9	Ангара	
5	Шари		10	Витим	

Задание №5

Город (-а) только №	
Страна (-ы)	



Всероссийская олимпиада школьников по ГЕОГРАФИИ
Школьный этап 2021-2022 учебный год
Бланк заданий – 11 класс

Задание № 1.

Выберите в каждом пункте один правильный ответ:

1. «Новое индустриальное государство» из перечисленных:
А) Южная Корея Б) Бангладеш В) Япония Г) Швейцария
2. Эта область «исчезла» с политико-административных карт РФ после 2008 года:
А) Тюменская Б) Свердловская В) Читинская Г) Омская
3. Для какой науки объект изучения – ледники:
А) геоморфология Б) литология В) спелеология Г) гляциология?
4. В этой стране к основным религиям относятся даосизм, синтоизм и буддизм:
А) Китай Б) Япония В) Шри-Ланка Г) Абхазия
5. В какой стране столица не является крупнейшим городом по численности населения:
А) Великобритания Б) Марокко В) Польша Г) Перу?

Задание № 2.

Город, основанный в 326 г. византийским императором Константином, известен в Древней Руси был известен как Царьград. Расположенный в двух частях света, он на протяжении многих веков был столицей трёх империй. Бурные исторические события нашли своё отражение в облике города: старую его часть украшают мечети с высокими минаретами, дворцы, храмы, фонтаны и другие архитектурные сооружения античности, средневековья и нового времени. В XX веке обе части города в двух частях света соединил мост, четвёртый в мире по величине и способный попускать океанские суда любых размеров. Запишите название города, в каких частях света он расположен, какой пролив его разделяет в бланк ответов.

Задание № 3.

О каких странах Европы идёт речь?

1. Микрогосударство – абсолютная теократическая монархия;
2. Страна, непрерывно, веками отвоёвывающая у моря территорию;
3. Страна, в которой нет лесов, средний возраст населения 36 лет, основу экономики составляют рыболовство и овцеводство, а чтобы обогреть дома, бассейны и теплицы не надо тратить на топливо;
4. Один из российских императоров в XIX веке стал приором рыцарского ордена, обосновавшегося на этом острове в Средиземном море;



5. Шесть лет назад супруга главы этой страны родила двойню: сына – наследника престола – и дочь. Это спасло граждан от потери суверенитета и поглощения соседним государством после смерти правителя;
6. Эта континентальная страна – единственная, кто имеет сухопутную границу с Соединённым королевством;
7. Конституционная монархия, где государственный язык – немецкий, а решения принимаются правительством соседней конфедерации, оттуда же руководят и дипломатией;
8. Официально – Княжество, формально – республика. Создателем считается франкский король и император Карл Великий;
9. Страна – древнейшая из существующих на планете республик. Ныне действующая конституция была принята в 1600 году!
10. Длина береговой линий этой страны немногим больше 3000 км. А если учесть берега многочисленных извилистых заливов, глубоко вдающихся в сушу, то побережье страны окажется в 8 раз длиннее!

Задание № 4.

Профильная смена «Мир открытий» Русского географического общества в 7-й раз проходит в «Артеке». Для юных географов организуют лекции и мастер-классы учёных-географов, путешественников. Ребята из 47 субъектов РФ защищают свои проекты, работают с настоящим географическим оборудованием, изучают историю и достопримечательности Крыма.

В своём видеоблоге участник смены из Мурманска опубликовал такое сообщение-анонс: «На завтра намечается водный поход вдоль побережья на шлюпках. Первыми записались самые “сухопутные” участники: новоторы, орчане, смоляне, липчане, куряне. Смелые ребята! А ведь среди них только новоторы имеют опыт речных водных путешествий в черте своего города, да и смоляне чуть-чуть. А как же себя будут чувствовать остальные? Завтра будет весело! Расскажу и покажу, не пропустите!»

Из каких городов нашей страны приехали в «Артек» упомянутые участники?

Почему автор назвал их “сухопутными”?

Назовите города и укажите их “сухопутные” особенности.

**Всероссийская олимпиада школьников по географии.
Школьный этап. 2021-2022 учебный год. 11 класс. Бланк ответов.**

Код	
------------	--

Задание №1.

1	2	3	4	5

Задание №2.

Город	
Части света	
Пролив	

Задание №3.

1		6	
2		7	
3		8	
4		9	
5		10	

Задание №4.

Участники	Из какого города
Новоторы	
Орчане	
Смоляне	
Липчане	
Куряне	

«Сухопутные» особенности городов: _____

