

Информационно-методический центр
Красносельского района
Санкт-Петербурга

**Всероссийская олимпиада школьников
школьный этап
2019-2020 учебный год**

ЗАДАНИЕ

**по предмету Технология. Номинация «Культура дома и декоративно-
прикладное творчество»
класс 9**



Код участника

ВСЕРОССИЙСКАЯ ОЛИМПИАДА ШКОЛЬНИКОВ ПО ТЕХНОЛОГИИ


Тексты заданий Всероссийской олимпиады по технологии В
номинации «Культура дома и декоративно-прикладное творчество»
Школьный этап 9 класс. Теоретические задания.

1. Как называется старинный восточнославянский напиток из воды, мёда и пряностей, в число которых нередко входили лечебные травяные сборы:

Ответ _____

2. Какой из рисунков показывает, что вы окончили еду?

Обведите номер верного ответа.



3. Верны ли следующие утверждения о варке бульона?

А) Для получения бульона рыбу (птицу, мясо, грибы) заливают горячей водой, доводят до кипения и варят до готовности при слабом кипении

Б) Для получения бульона рыбу (птицу, мясо, грибы) заливают холодной водой, доводят до кипения и варят до готовности при слабом кипении.


Обведите номер верного ответа.

а) верно только А; б) верно только Б; в) верны оба действия; г) оба действия не верны.

4. Составьте из букв слово, обозначающее свойство ткани - способность текстильных материалов в подвешенном состоянии образовывать мягкие подвижные складки.

- ь п р д у р т а о и м п е с

5. На рисунках представлены варианты ткацких дефектов. Какой из вариантов дефектов можно устранить при раскрое изделия за счёт лекальных выпадов. Обведите номер верного ответа.



6. Продолжите предложение.

Рабочее место школьника должно располагаться так, чтобы свет падал на поверхность стола _____

7. Прочитайте внимательно текст описания модели юбки.

Юбка коническая - «полу-солнце» с притачным поясом из тонкой шёлковой ткани.

Предложите вариант шва для соединения полотнищ юбки. Зарисуйте схему шва.





Код участника

8. Определите, в чем заключается цель любого проектирования?

Обведите номер верного ответа.

- а). Разработка плана определенных действий;
- б). Создание нового продукта, удовлетворяющего потребностям людей;
- в). Изготовление изделия по определенному заказу;
- г). Организация мероприятия по определенному заказу.

Выберите правильный ответ.

9. Моделирование – это:

- а) создание различных фасонов швейного изделия на основе базовой выкройки;
- б) построение чертежа деталей швейных изделий;
- в) нанесение на базовую выкройку направления долевой нити.

10. Рассчитайте:

Для покраски одного квадратного метра стены нужно 2 кг краски. Определите количество банок, необходимых для покраски стены высотой 4м, длиной 18м, если в банке - 3000г.

Ответ: _____

Отметьте знаком «+» все правильные ответы.

11. Каши можно варить:

- а) на молоке; б) на бульоне; в) на воде; г) на киселе.

Отметьте знаком «+» правильный ответ

12. Способ подключения к сети Интернет, обеспечивающий наибольшие возможности для доступа к информационным ресурсам:

- а) удаленный доступ по коммутируемому телефонному каналу;
- б) постоянное соединение по оптоволоконному каналу;
- в) постоянное соединение по телефонному каналу;
- г) терминальное соединение по коммутируемому телефонному каналу.

13. Что такое запекание?

- а) кратковременная обработка продуктов горячей водой или паром с целью облегчения их дальнейшей механической обработки или для удаления горечи.
- б) комбинированный способ тепловой обработки, заключающийся в нагревании продукта
- в) в жарочном шкафу для доведения его до готовности с образованием поджаристой корочки.
- в) способ тепловой обработки, при котором продукт нагревают с жиром или без него при температуре 130-180 °С до образования на поверхности поджаристой корочки.

Отметьте знаком «+» все правильные ответы.

14. Доброкачественное мясо:

- а) упругое
- б) имеет мягкий жир
- в) имеет твердый жир
- г) не упругое



Код участника

Выберите правильный ответ.

15. Быстрое обваривание или ошпаривание – это:

- а) пассерование
- б) припускание
- в) тушение
- г) бланширование

Отметьте знаком «+» правильный ответ.

16. Чем больше номер на машинной игле, тем сама игла:

- а) толще
- б) тоньше

17. Отметьте знаком «+» все правильные ответы.

В бытовой швейной машине имеются регуляторы:

- а) длины стежка
- б) ширины стежка
- в) ширины зигзага
- г) натяжения верхней нити

18. Допишите терминологию швейной операции:

Застрочить – это

Отметьте знаком «+» правильный ответ.

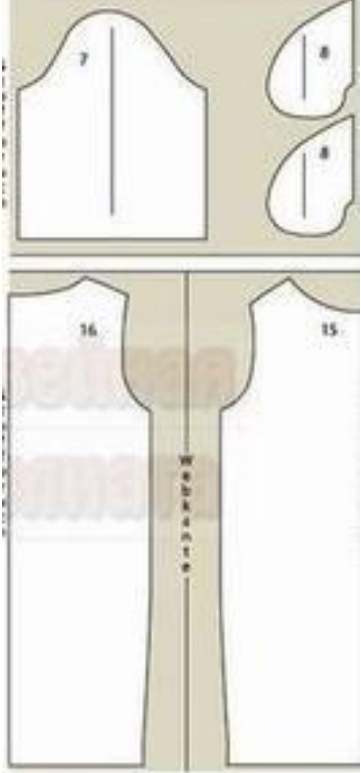
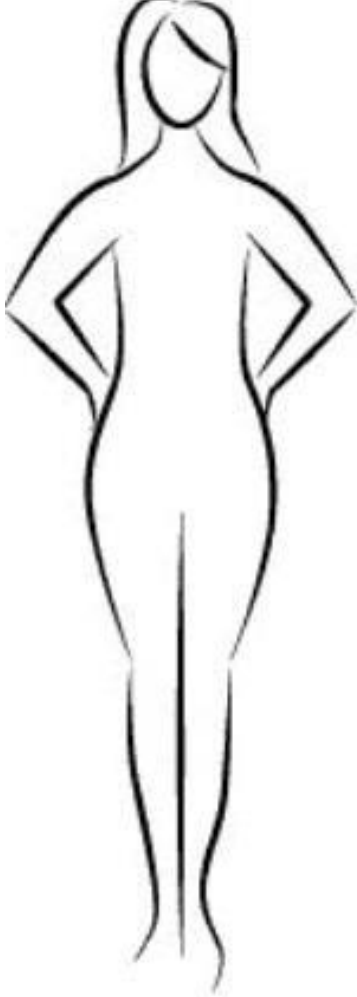
19. Текстильные волокна делятся на натуральные и:

- а) растительные
- б) минеральные
- в) химические
- г) синтетические
- д) искусственные

2. Творческое задание. Разработайте три модели поясного изделия (эскизы)

3. Моделирование: Вам предложены детали кроя платья.

1. Выполните эскиз изделия, согласно деталям кроя (вид спереди и вид сзади);
2. Сделайте описание модели платья по эскизу;
3. Предложите вариант декоративной отделки платья.
4. Предложите ткани (или волокнистый состав) для этой модели платья.

Детали кроя платья	Эскиз (вид спереди)	Эскиз (вид сзади)
		

Описание модели:

Назначение _____

Силуэт _____

Детали _____

Цвет _____

Отделка _____

Ткани _____